

SATISH CHANDRA MEMORIAL SCHOOL

PRACTICE WORKSHEET

STD-II SUBJECT- MATHEMATICS

TIME- 3hrs.

MAXIMUM MARKS – 80

Name - _____ Sec - _____ Roll NO - _____.

1. Put a tick (✓) mark for correct answer (1 x 10 = 10) :

i.) I have 3 corners and 3 edges. I am a _____ .

a) Triangle ☐ b) Cone ☐ c) Cube ☐ d) Sphere ☐

ii.) 1 Century = _____ .

a) 10 ☐ b) 100 ☐ c) 0 ☐ d) 1 ☐

iii.) 4 tens + 16 = _____ .

a) 46 ☐ b) 56 ☐ c) 16 ☐ d) 36 ☐

iv.) How many edges are there in sphere? _____ .

a) 1 ☐ b) 0 ☐ c) 2 ☐ d) 3 ☐

v.) There are 10 balls in a bag, 5 are blue, 2 are red and the remaining is green.
How many green balls are there?

a) 1 ☐ b) 2 ☐ c) 3 ☐ d) 4 ☐

vi.) 3 more than 38 are _____ .

a) 40 ☐ b) 41 ☐ c) 42 ☐ d) 35 ☐

vii.) The smallest 3 – digit number is _____ .

a) 999 ☐ b) 100 ☐ c) 109 ☐ d) 200 ☐

viii.) What comes after 498? _____ .

a) 499 ☐ b) 497 ☐ c) 490 ☐ d) 496 ☐

ix.) 2 less than 29 is _____ .

a) 9 ☐ b) 8 ☐ c) 7 ☐ d) 6 ☐

x.) How many months in a year have 30 days?

a) 6 ☐ b) 7 ☐ c) 8 ☐ d) 5 ☐

2. Do as directed (2 x 7 = 14)

i.) Complete the series :-

Z5, Y10, X15, _____, _____.

↑, ↓↓, ↑, _____, _____.

ii.) Arrange in ascending order.

404, 396, 369, 440

_____.

iii.) Arrange in descending order.

535, 550, 662, 510

_____.

iv.) Mixed table :-

$9 \times 4 = 6 \times \underline{\hspace{2cm}}$.

$8 \times \underline{\hspace{2cm}} = 12 \times 2$

v.)

a.) Write in expanded form:-

567 = _____.

b.) Write in figures:-

1 hundred + 5 tens + 6 ones = _____.

vi.) Form all possible 2 – digits numbers using the given digit 2, 6.

_____, _____,

vii.) Draw the clock and show the time:-

9:15

3. Write True or False (1 x 5 = 5)

- i.) Rectangle has 4 equal sides and 4 corners. _____.
- ii.) The fifth month of the year is May. _____.
- iii.) 1 dozen = 12. _____.
- iv.) $4 \times 8 = 15 + 5$. _____.
- v.) $35 - 5 = 21 + 9$. _____.

4. Fill in the blanks:- (1 x 5 = 5)

- i.) The place value of 9 in 390 is _____.
- ii.) Which number is at ones place in 426? _____.
- iii.) The letter X has two _____ lines.
- iv.) Two days before Wednesday is _____.
- v.) A cone has _____ faces.

5. Solve:- (2 x 7 = 14)

i.)	ii.)	iii.)	iv.)
$\begin{array}{r} H \quad T \quad O \\ 3 \quad 6 \quad 8 \\ +4 \quad 9 \quad 4 \end{array}$	$\begin{array}{r} H \quad T \quad O \\ 9 \quad 5 \quad 6 \\ -4 \quad 6 \quad 5 \end{array}$	$\begin{array}{r} H \quad T \quad O \\ 7 \quad 3 \quad 9 \\ +2 \quad 8 \quad 4 \end{array}$	$\begin{array}{r} H \quad T \quad O \\ 4 \quad 0 \quad 0 \\ -1 \quad 9 \quad 8 \end{array}$

v.)	vi.)	vii.)
$\begin{array}{r} H \quad T \quad O \\ 9 \quad 0 \quad 7 \\ -5 \quad 8 \quad 8 \end{array}$	$\begin{array}{r} H \quad T \quad O \\ 6 \quad 5 \quad 7 \\ -2 \quad 9 \quad 5 \end{array}$	$\begin{array}{r} T \quad O \\ 5 \quad 6 \\ 4 \quad 5 \\ +4 \quad 7 \end{array}$

6. Draw label and give example (2 x 3 = 6)

Cuboids

Cylinder


7. Word problem:- (3 x 6 = 18)

- i.) Umesh had 625 stamps in his collection. His father gives him 177 more stamps. How many stamps does Umesh have now?
- ii.) In a fruit shop, 226 apples are sold out of 567 apples. Find the number of apples that are not sold out.
- iii.) Amit had 98 marbles. He gave away 29 marbles to his friend Asmita. How many marbles are left with him?
- iv.) Monu scored 146 runs in the first innings and 155 runs in the second innings in a cricket match. Find the total runs scored by him in the match.

v.) 400 books were there in a book-shop. 150 of them were in Hindi. How many books were there in English?

vi.) How many garlands of 10 flowers each can you make 32 flowers? Draw them:-

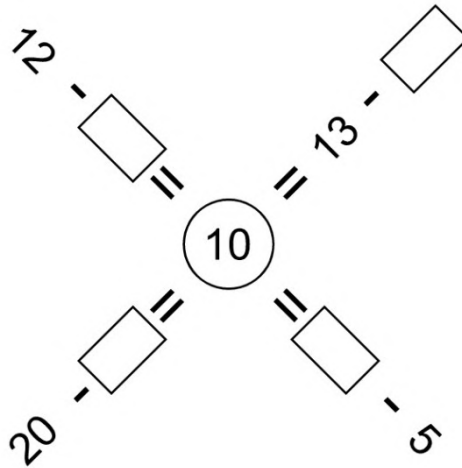
8. **Shapes:- (1 x 4 = 4)**



- i.) How many shapes have 3 sides?
- ii.) Colour the shapes in Blue having 0 corners.
- iii.) How many shapes having 4 equal sides?

iv.) Colour the rectangular shape with Orange.

9. Guess the missing numbers. (1 x 4 = 4)



SATISH CHANDRA MEMORIAL SCHOOL

PRACTICE WORKSHEET (2019-20)

STD-II SUB- ENGLISH

Read the passage and answer the question below.

Last Monday, Saloni stood first in a cycle race in her school. Her uncle was very happy with her. He gave her a brand new bicycle as a present. The bicycle is painted green. It has a beautiful brown leather seat and there is a large shiny bell on the handlebar.

- a) what is green in colour?
- b) who gave Saloni the new bicycle?
- c) Draw a picture related to this passage.

Literature

1) Write the meanings of the following.

- a) thunder b) puff c) turn d) hurry

2) Who said to whom ?

- a) "Go home, Sunu-Sunu, hurry –hurry, your mother will worry".
- b) "I must tell the king".
- c) "How cold it is!"

3) Make sentences of the following words.

- a) snail b) thunder c) road d) won e) wrinkles

4) Answer the following .

- a) What did the Sun do to get the man's coat off?
- b) Where were the ants hiding ?
- c) Did Sunu- sunu get wet ? why?
- d) What fell on Funny Bunny one day?

Language

1) Underline the proper nouns and circle the common nouns in the given sentences.

- a) India won the cricket match against Australia.
- b) A monkey is sitting on a tree.
- c) My cousins live in Bhopal.

2) Write the plural forms of these nouns.

- a) wolf - b) army - c) goose- d) child-

3) Fill in the blanks with the verbs is, am , are, was, or were

- a) He _____ not in school last Friday.
- b) The monkeys _____ climbing trees.
- c) They _____ busy today.
- d) My parents _____ in Nagpur yesterday.

4) Replace the underlined word with a correct pronoun.

- a) Leela is not well. He will not go to school.
- b) My father and I are going to the market. They will buy vegetables.
- c) Dora is my pet fish. They is black.

5) Write nouns of opposite gender.

- a) uncle b) grandfather c) queen d) witch


6) Complete the sentences with suitable adjectives from those given in brackets.

- a) My grandfather is the _____ in our family. (oldest / older)
- b) Ram's bag is _____ than Shyam's . (heavier / heavy)

7) Underline the verbs in the following.

- a) A hen lays eggs.
- b) The ship sails in the sea.
- c) The stars twinkle at night.

8) Write five sentences to describe the given picture.



SATISH CHANDRA MEMORIAL SCHOOL

Practice Work-Sheet (2019-20)

STD- II SUB: BENGALI

NAME _____ SEC _____ ROLL _____

বিভাগ - ক (বোধ পরীক্ষণ)

১) নিচের অনুচ্ছেদ পড়ে প্রশ্নের যথাযথ উত্তর দাও:-

একদিন দুজন কাঠুরে একটি বনের ভেতর দিয়ে যাচ্ছিলো। তখন ছিল শীতকাল, যেতে যেতে রাত হয়ে এল। দুজনের খুব ঠান্ডা লাগতে থাকলো। মাটি ও গাছপালার উপর বরফ পড়তে শুরু করলো। এমন কি ঠান্ডায় নদীর জলও জমে বরফ হয়ে গেল। চারপাশ সাদা সাদা বরফের ঢেকে গেলো।

ক) কারা একটি বনের ভেতর দিয়ে বাড়ি যাচ্ছিল?

উঃ _____

খ) ঠান্ডায় কি জমে বরফ হয়ে গেল?

উঃ _____

গ) অনুচ্ছেদটিতে একটি রঙের নাম আছে সেটি কি?

উঃ _____

২) বিপরীত শব্দ লেখো (অনুচ্ছেদ থেকে)।

ক) গরম _____ খ) শেষ _____

৩) শূন্যস্থান পূরণ করো (অনুচ্ছেদ থেকে)।

ক) তখন ছিল _____।

খ) যেতে যেতে _____ হয়ে এলো।

৪) সঠিক উত্তরটির মাথায় টিক (✓) চিহ্ন দাও।

ক) একদিন (দুজন / তিনজন) কাঠুরে বনের ভেতর দিয়ে যাচ্ছিল।

খ) চারপাশে (সাদা / লাল) বরফে ঢেকে গেল।

৫) বাক্য রচনা কর

মাটি _____

বিভাগ - খ (ব্যাকরণ)

১) নিচের প্রশ্নের যথাযথ উত্তর দাও।

ক) বিশেষণ পদ কাকে বলে উদাহরণ দাও।

উঃ _____

২) বিশেষণ পদগুলি গোল কর।

ক) আমার একটি লাল বল আছে।

খ) রীতার দুটি পোষা বিড়াল আছে।

৩) নিচের বাক্যগুলো থেকে সর্বনাম পদ দাগ দাও।

ক) সে বই পড়ে।

খ) তুমি খুব ভালো মেয়ে।

৪) এলোমেলো বর্ণগুলো সাজিয়ে সঠিক শব্দ লেখো।

ক) নায়বা _____

খ) রদআ _____

গ) রবাখা _____

ঘ) লরকেনা _____

৫) উ (়) কার যুক্ত দুটি শব্দ লেখ।

_____ , _____

৬) ঔ (ৌ) কার যুক্ত দুটি শব্দ লেখ।

_____ , _____

৭) নিচের বাক্যগুলোর থেকে ক্রিয়াপদ বেছে নিয়ে লেখ।

বাক্য	ক্রিয়াপদ
ক) মীনা গান গাইছে	_____
খ) শিশুটি কাঁদছে	_____

৮) নিচের বিশেষ্য, বিশেষণ, সর্বনাম, ক্রিয়াপদগুলি সঠিক ঘরে লেখো।

[সোমা, ছয়টি, সে, ডাকছে]

বিশেষ্য	বিশেষণ	সর্বনাম	ক্রিয়াপদ

৯) এ এবং ঈ দিয়ে দুটি করে শব্দ লেখ।

এ _____

ঈ _____

বিভাগ - গ (গদ্যাংশ)

১) নিচের প্রশ্নগুলোর উত্তর দাও।

ক) নান্দুর হাতে কি রয়ে গেল ?

উঃ _____

খ) পুতুলের মা কে ?

উঃ _____

২) শব্দার্থ লেখ।

ক) গনগনে _____

খ) গড়ন _____

গ) বায়না _____

ঘ) ভঙ্গ _____

৩) বিপরীত শব্দ লেখ।

ক) নেই _____

খ) কষ্ট _____

গ) শীত _____

ঘ) বাঁধবে _____

৪) বাক্য রচনা কর।

ক) দোকান _____

খ) নদী _____

৫) শূন্যস্থান পূরণ কর।

ক) দুমকার লোকেরা বড় _____ হয় দিদি।

খ) _____ মতো আড়ি।

গ) আর নেবো _____ মেথরকে।

৬) নিচের প্রশ্নগুলোর যথাযথ উত্তর দাও।

ক) ময়না কিসের জন্য বায়না করে?

উঃ _____


খ) কখন আমাদের গলা থেকে হা হা শব্দ বেরোয় ?

উঃ _____

বিভাগ - ঘ (রচনা)

ছবিসহ যেকোন একটি অনুচ্ছেদ লেখ।

(গাছ / তোমার দেখা একটি মেলা)



SATISH CHANDRA MEMORIAL SCHOOL
PRACTICE WORKSHEET

STD. -II

SUB- HINDI

1. प्रश्नों के उत्तर दें -

- i) शेर के बच्चे ने पेड़ की डाल क्यों पकड़ी ?
- ii) मौसी ने वीरू को फुट्टा लाने के लिए क्यों कहा ?

2. 'बहुत हुआ ' कविता की दस पंक्तियाँ लिखें ।

3. ग्रीष्म ऋतु और गाय पर निबंध लिखें ।

4. शब्दार्थ

i) बोरियत-

ii) अक्ल -.....

5. विलोम शब्द

i) ऊँचा-

ii) सूरज -.....

6. भाषा किसे कहते हैं ?

7. भाषा के कितने रूप होते हैं ?

8. मात्राओं की कुल कितनी संख्या होती है ?

9. निम्नलिखित में से कौन सा स्वर है ? सही विकल्प पर (✓) लगाइए

क) (अ) ग ☐ (ब) ड ☐ (स) च ☐ (द) छ ☐

ख) (अ) ए ☐ (ब) ट ☐ (स) त ☐ (द) भ ☐

10. निम्नलिखित में से संज्ञा शब्द छांटकर लिखिए

तैरना , खेलना , लड़का , घोड़ा, दादाजी
मीठा , किताब , पेंसिल , हम , सफेद